



INDIAN INSTITUTE OF CRAFTS & DESIGN
UG ENTRANCE TEST 2012

General Awareness test
सामान्य जागरूकता परीक्षण

Section 1

1. North eastern states of India are commonly referred to as "Seven Sisters". Name them.

भारत के कौनसे उत्तर-पूर्वी राज्य सात बहनों के नाम से जाने जाते हैं ?

- a. _____
b. _____
c. _____
d. _____
e. _____
f. _____
g. _____

2. Which Indian state/city are the following food items famous for ? Answer any Five.

भारत के कौनसे राज्य/शहर में यह भोजन प्रसिद्ध है? किन्ही पाँच के जवाब दें।

- | | | |
|-------------------|----------------|-------|
| 1. Chole Bature | (छोले-भटूरे) | _____ |
| 2. Ras Gullah | (रसगुल्ला) | _____ |
| 3. Idli | (इडली) | _____ |
| 4. Bhel Puri | (भेल-पूरी) | _____ |
| 5. Biryani | (बिरयानी) | _____ |
| 6. Dabeli | (दाबेली) | _____ |
| 7. Sarson ka Saag | (सरसों का साग) | _____ |
| 8. Daal Bati | (दाल-बाटी) | _____ |
| 9. Khandvi | (खाण्डवी) | _____ |
| 10. Macher Jhol | (माछेर-झोल) | _____ |

3. Name six languages spoken in India

भारत में बोली जाने वाली 6 भाषाओं के नाम लिखें।

- 1- _____ 2- _____ 3- _____
4- _____ 5- _____ 6- _____

4. Write the names of any five Indian newspapers.

पाँच भारतीय समाचार पत्रों के नाम लिखिए ।

1- _____ 2- _____ 3- _____

4- _____ 5- _____

5. Name the capital of the following states : Tick Correct Answer

इन राज्यों की राजधानी क्या है ? सही उत्तर पर सही का निशान लगाएँ –

a- Andaman and Nicobar Island अंडमान एवं निकोबार द्वीप

1. Port Blair / पोर्ट ब्लेयर 2. Dadar / दादर 3. Arasikere / अरासीकेरे

b- Dadra & Nagar Haveli दादर एवं नगर हवेली

1. Banswara / बांसवाडा 2. Asansol / आसनसोल 3. Silvassa / सिलवासा

c- Gujarat / गुजरात

1. Bhuj / भुज 2. Bharuch / भरुच 3. Gandhinagar / गांधीनगर

d- Kerala / केरला

1. Ramapuram / रामपुरम 2. Tiruanathapuram / तिरुअनन्थपुरम 3. Nilambur / निलाम्बूर

d- Chhatisgarh / छत्तीसगढ़


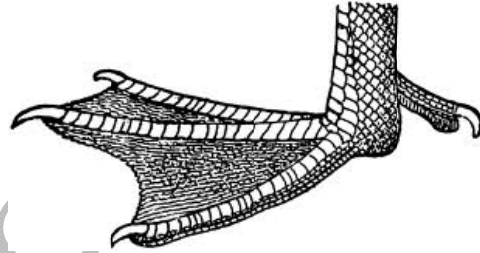
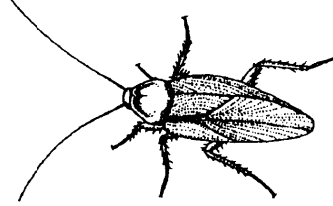
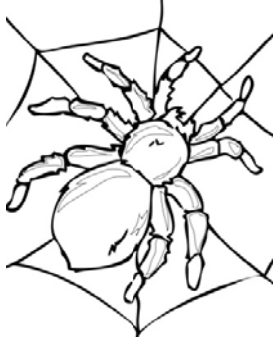
1. Raipur / रायपुर 2. Solan / सोलन 3. Rampur / रामपुर

e- Jharkhand / झारखंड

1. Bokaro / बोकारो 2. Ranchi / रांची 3. Jamshedpur / जमशेदपुर

6. Identify the following pictures.

निम्नांकित चित्रों को पहचानकर नाम लिखिए -



Section 2

1. Name two raw materials used by each of the following persons for their work.

निम्नलिखित व्यक्तियों द्वारा प्रयोग किए जाने वाली किन्ही दो कच्ची सामग्रीयों के नाम लिखें –

- a. Potter / कुम्हार _____
- b. Tailor / दर्जी _____
- c. Carpenter बढई/सुथार _____
- d. Shoe Maker / मोची _____
- e. Blacksmith / लोहार _____
- f. Dyer / रंगरेज _____
- g. Painter / चित्रकार _____
- h. Gold Smith / सुनार _____

2. Identify the names of five stones from the names given below

नीचे दिये गये शब्दों में से पांच पत्थरों के नाम पहचानिये?

- 1- _____ 2- _____ 3- _____
- 4- _____ 5- _____

Options: Terracota, Kota Sand Sandstone, Marble, Teak, Glaze, Matka, Slate, Limestone, Granite, Sand, Pebbles, Tar, Gravel, Mosaic, Veneer

विकल्प – टेराकोटा, कोटा सेंड स्टोन, मार्बल, टीक, ग्लेज, मटका, स्लेट, लाइमस्टोन, ग्रेनाइट, रेत, कंकड, मोजेक, पोशिष

3. Name four tools used by any one of the following

निम्नलिखित में से किसी एक के द्वारा प्रयोग किए जाने वाले चार औजारों के नाम लिखिए –

- 1) Tailor / दर्जी _____
- 2) Carpenter बढई/सुथार _____
- _____
- _____

4. What do the following stand for. Answer any five

किन्ही पाँच के पूरे नाम लिखिए –

- a) NGO _____
- b) SHG _____
- c) IICD _____
- d) GOI _____
- e) UNDP _____
- f) GDP _____
- g) HRD _____

5. A potter makes a pot for Rs. 20/-, an agent buys the pot from the potter and further sells it for Rs. 60/-.What in your opinion could be the reason?

एक कुम्हार एक घड़े को 20 रुपये में बनाता है, एजेंट कुम्हार से घड़ा खरीदकर उसे 60 रुपये में बेचता है। आपकी राय में इसका क्या कारण है?

Section 3

6. Two fathers and two sons went fishing. Together they caught three fish. One father said, 'that is enough, we can each have one fish.' How can this be possible?

दो पिता और दो पुत्र मछलियों पकड़ने गए और उन्होंने मिलकर तीन मछलिया पकड़ी। एक पिता ने कहा "तीन काफी है" हम सब एक एक खा सकते हैं। ये कैसे सम्भव है।

2. A man and his son are in a car crash. The father is killed and the child is taken to hospital gravely injured. When he gets there, the surgeon says, 'I can't operate on this boy - for he is my son!!!' How is this possible?

एक पिता-पुत्र की कार दुर्घटनाग्रस्त हो गयी। पिता की वहाँ मृत्यु हो गयी तथा पुत्र को ईलाज के लिए अस्पताल ले जाया गया। अस्पताल में लड़के को देखकर डॉक्टर ने कहाँ मुझसे इसका ऑपरेशन नहीं होगा, ये मेरा पुत्र है। यह कैसे सम्भव है ?

3. A cock/rooster lays an egg at the top of a slanted roof. Which side is the egg going to roll off ?

एक मुर्गा तिरछी छत पर एक अंडा देता है। वह अंडा किस तरफ गिरेगा?

4. Which side of the cup is the handle?

कप का हैंडल किस तरफ होता है?

5. You have fifty kilograms of cotton and fifty kilograms of steel. Which will be heavier?

आपके पास 50 किलोग्राम कपास/रुई तथा 50 किलोग्राम स्टील/लोहा है, उनमें से कौनसा भारी होगा ?

6. a) Plate is to roti as bowl is to? (Tick the answer)

प्लेट रोटी से संबंधित है जैसे ही कटोरा किससे संबंधित है ? सही उत्तर टिक करें

A. Dish / थाली	B. Dal / दाल
C. Spoon / चम्मच	D. Food / भोजन

b) Reptile is to lizard as flower is to? (Tick the answer)

सांप छिपकली से संबंधित है, जैसे ही फूल किससे संबंधित है (सही उत्तर टिक करें)

A. Petal / पंखुड़ी	B. Stem / डण्डल
C. Rose / गुलाब	D. Alligator / मगरमच्छ

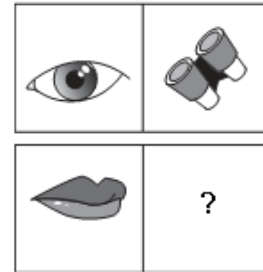
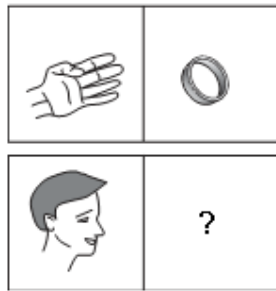
c) Sponge is porous as rubber is (Tick the answer)

स्पंज छिद्रपूर्ण पानी सोख सकता है, जैसे ही रबर क्या है (सही उत्तर टिक करें)

A. Massive / भारी	B. Solid / ठोस
C. Elastic / लोचदार	D. Inflexible / कड़ा

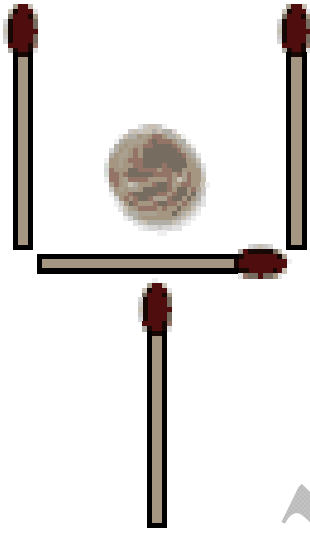
6. Choose the picture that would go in the empty box so that the two bottom pictures are related in the same way as the top two are related.(Tick the correct answer)

उपर की दो आकृतियाँ सम्बन्धित हैं । यही सम्बन्ध नीचे की दो आकृतियों में भी होगा दिए गए विकल्पों में से एक चुनिए ।(सही उत्तर पर सही का निशान लगाए ।)



8. Four matchsticks are placed in such a way that they form the shape of a glass, and the dot is seen "inside" the glass. Move the placement of any two matchsticks, to re-create the form of the glass so that now the dot is seen "outside" the glass. Draw the new arrangement to show your solution.

चार माचिस की तिलियों को इस प्रकार रखा गया है कि एक ग्लास का आकार बन जाये और एक बिन्दु उस ग्लास के अन्दर रखी है । किन्ही दो तिलियों को हटा कर ऐसे लगाएँ कि बिन्दु अब ग्लास के बाहर हो जाए । चित्र बनाकर दिखाएँ ।



Sample Paper

Creativity and Perception Test

रचनात्मकता एवं अनुभूति परीक्षण

Q.1. Make 32 objects using the set of circles provided:

प्र.1 दिये गये गोलों के जोड़ों से 32 वस्तुएँ बनाइये।





Q.2 Please find below two questions. You may attempt any of them.

निम्नलिखित प्रश्नों में से किसी एक प्रश्न का उत्तर दीजिए -

(A) Complete both the images given below.

Write a story based on any one of the completed images in not more than 200 words.

प्र. (अ) नीचे दी गई दो आकृतियों को पूर्ण कीजिए। इनमें से किसी एक आकृति पर आधारित 200 शब्दों की कहानी लिखिए।



paper



Or

(B) Pick a random letter from alphabets and then write as many things in your current environment that starts with the chosen letter.

A	B	C	D	E	F	G	H	I	J	K	L	M	N	O
P	Q	R	S	T	U	V	W	X	Y	Z				

- (i) Choose at least eight words from the list made by you above.
- (ii) Write a story using the same in not more than 200 words.
- (iii) Illustrate the story written using pencil sketches.

_____	_____
_____	_____
_____	_____
_____	_____

प्र. (ब) वर्णमाला से एक अक्षर उठाओ और वर्तमान वातावरण पर कई वस्तुएँ लिखिए।

क	ख	ग	घ	ङ	च	छ	ज	झ	यः	ट	ठ	ड	ढ	ण
त	थ	द	ध	न	प	फ	ब	भ	म	य	र	ल	व	श
स	ष	ह	श्र	त्र	ज्ञ									

- (i) सूची में से कम से कम 8 शब्द चुनिये ।
(ii) इन आठ शब्दों का उपयोग करते हुए 200 शब्दों में एक कहानी लिखिए ।
(iii) पेंसिल का उपयोग करते हुए इस कहानी का पेंसिल द्वारा चित्रण करें ।
